

## Οι αριθμοί μέχρι το 1.000

Όνομα:.....

1. Ανεβαίνω 100- 100 μέχρι το 1.000

□	□	□	□	□	□	□	□	□	□
---	---	---	---	---	---	---	---	---	---

2. Κατεβαίνω 100- 100 μέχρι το 1.000


□	□	□	□	□	□	□	□	□	□
---	---	---	---	---	---	---	---	---	---

3. Γράφω τους αριθμούς με ψηφία

<b>Πεντακόσια είκοσι ένα=</b>	<b>Διακόσια τρία=</b>
Εννιακόσια ενενήνα εννιά=	Εννιακόσια δύο=
Εφτακόσια τριάντα=	Εφτακόσια σαράντα πέντε=
Τριακόσια εβδομήντα οχτώ=	Οχτακόσια είσοσι εννιά=
Διακόσια ογδόντα=	Τετρακόσια πενήντα εφτά=
Ενατό πέντε=	Τριακόσια δύο=

4. Γράφω τους αριθμούς με λέξεις

<b>906=</b>
<b>548=</b>
<b>168=</b>
<b>1.000=</b>
<b>397=</b>
<b>709=</b>



5. Να συμπληρώσετε τα κουτάκια βάζοντας το προηγούμενο και τον επόμενο αριθμό

□	600	□	□	567	□
□	799	□	□	400	□
□	303	□	□	999	□

6. Να αναλύσετε και να συνθέσετε τους παρακάτω αριθμούς όπως το παράδειγμα

$$258 = 200 + 50 + 8$$

$$300 + 60 + 8 = 368$$

$$894 =$$

$$200 + 40 + 1 =$$

$$571 =$$

$$900 + 50 + 4 =$$

$$903 =$$

$$300 + 6 =$$

$$622 =$$

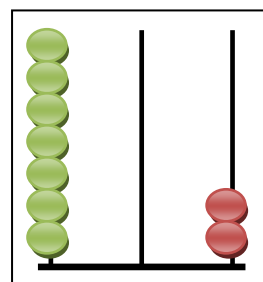
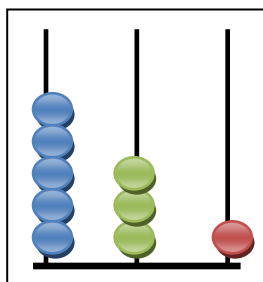
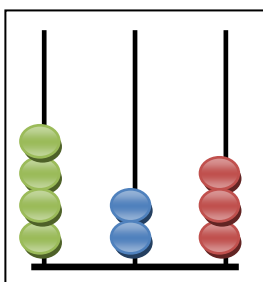
$$500 + 10 + 4 =$$

7. Να βάλετε τους αριθμούς από τον μικρότερο στο μεγαλύτερο

309, 674, 109, 708, 999, 100, 780, 647

---

8. Γράψω τους αριθμούς που δείχνουν οι άβακες



9. Σχηματίζω τους παρακάτω αριθμούς στους άβακες

